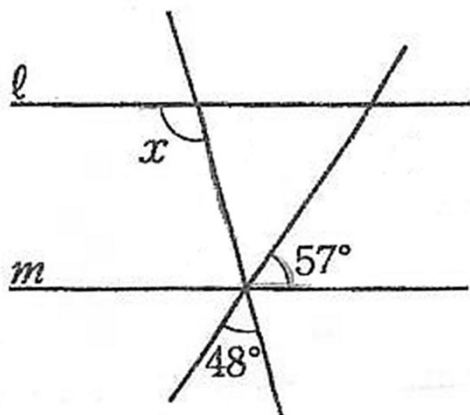


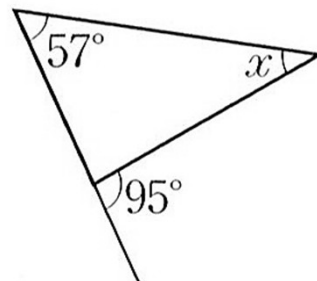
1

下図で $l \parallel m$ のとき、 $\angle x$ の大きさを求めなさい。【レベル ★☆☆】

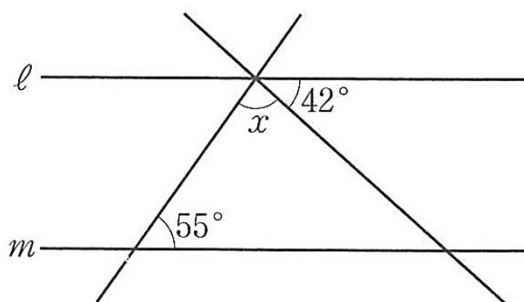
(1)



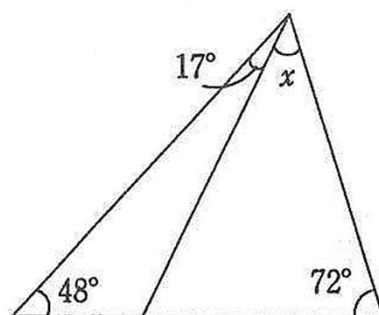
(2)



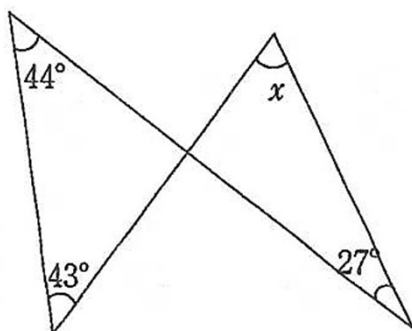
(3)



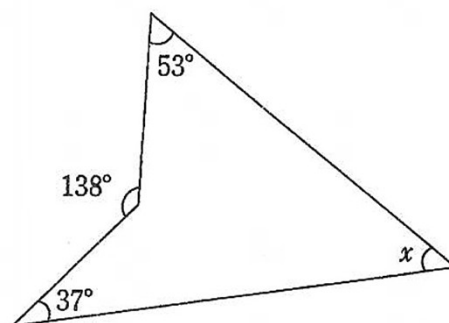
(4)



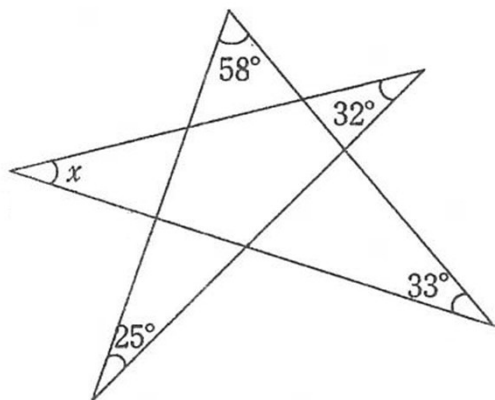
(5)



(6)



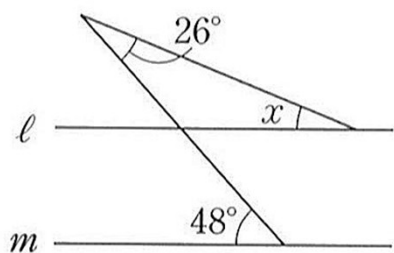
2

下図で、 $\angle x$ の大きさを求めなさい。【レベル ★★★】

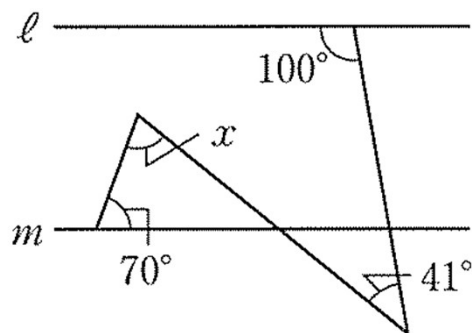
3

下図で $l \parallel m$ のとき、 $\angle x$ の大きさを求めなさい。【レベル ★★★】

(1)



(2)



4

下図で、 $\angle x$ の大きさを求めなさい。【レベル ★★★】