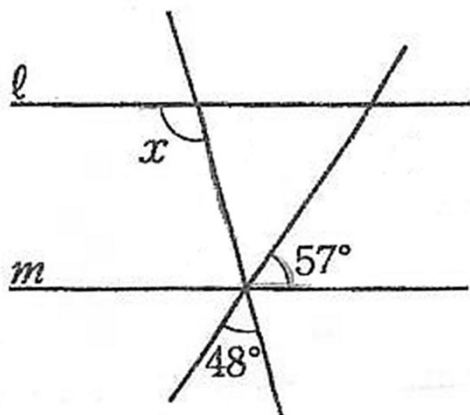


1

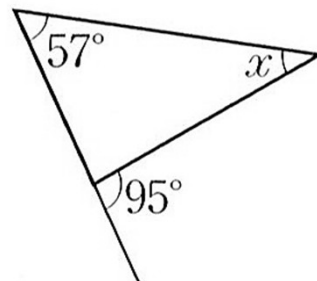
下図で  $l \parallel m$  のとき、 $\angle x$  の大きさを求めなさい。【レベル ★☆☆】

(1)



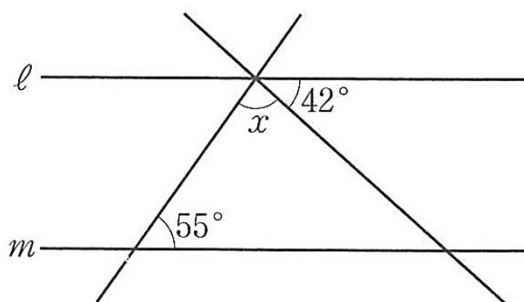
105°

(2)



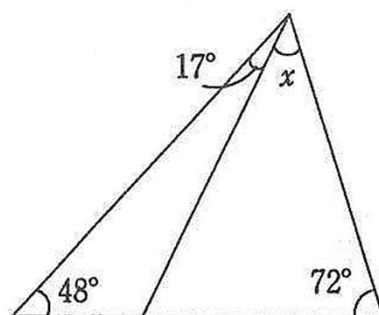
38°

(3)



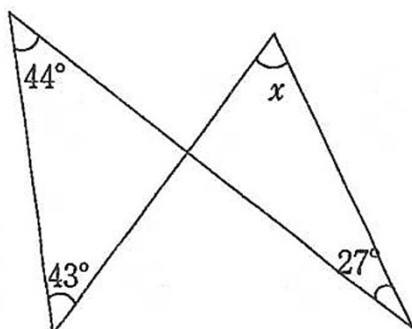
83°

(4)



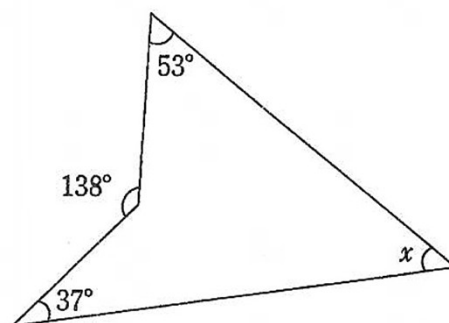
43°

(5)



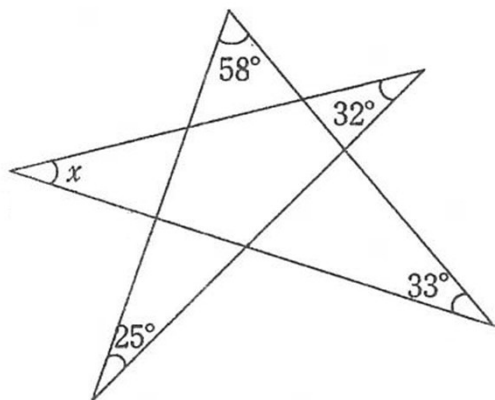
60°

(6)



48°

2

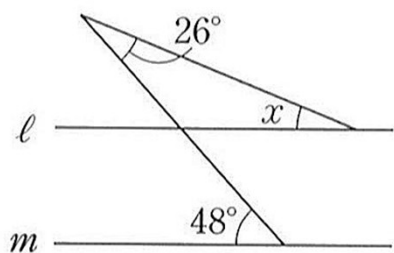
下図で、 $\angle x$  の大きさを求めなさい。【レベル ★★☆☆】

32°

3

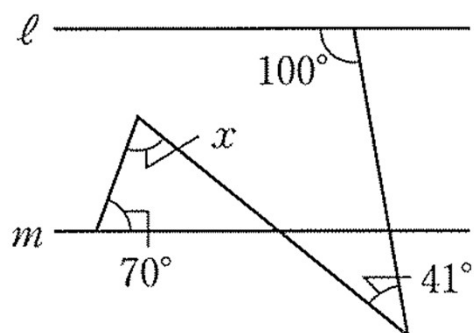
下図で  $l \parallel m$  のとき、 $\angle x$  の大きさを求めなさい。【レベル ★★☆☆】

(1)



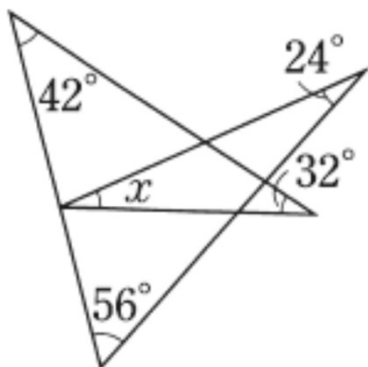
22°

(2)



71°

4

下図で、 $\angle x$  の大きさを求めなさい。【レベル ★★☆☆】

26°